

«МОСКОВСКИЙ ТРЕТЬЕКЛАССНИК XXI ВЕКА»

Логин

Вариант 2

Приглашаем совершить путешествие по залам 57-го павильона ВДНХ. Экспозиции павильона посвящены историческим эпохам Рюриковичей, Романовых и истории XX века.

Во время путешествия и выполнения заданий вас будут сопровождать юные экскурсоводы.

Задание 1. Наберите в адресной строке <http://myhistorypark.ru>
Наведите курсор на «окна» перехода в залы экспозиций.



Найдите на сайте Исторического парка ВДНХ годы начала и окончания периода династии, правившей перед Романовыми.



Впишите в поле ответов годы начала и годы окончания правления династии. Запишите числа через запятую.
Ответ: 862, 1598.

Задание 2. Рассмотрите монеты клада на картинке. Впишите в таблицу, сколько и каких монет найдено.



В этом клада четверец в
3 раза больше, чем
сребреников.
Да ещё полушки.

Полушек в 2 раза меньше,
чем сребреников и
четверец вместе!



1)	Сребреник 11 – 12 вв.	
2)	Деньга Дмитрия Донского 14 в.	
3)	Новгородская четверецца 15 в.	
4)	Полушка Ивана Грозного 16 в.	


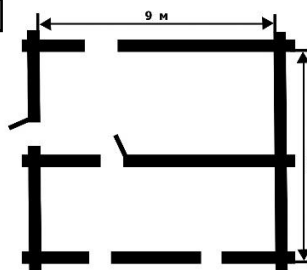

Запишите ответ из таблицы числами через запятую последовательно: 2,1,6,4.

Задание 3. Выберите для будущего дома изображение, которое продемонстрировал бы древнерусский мастер заказчику?



Древнерусские мастера - плотники
умели строить избы без единого гвоздя.
Такие сооружения назывались срубами.

Вместо чертежей будущего дома
использовались модели, выполненные
мастерами из природного материала,
входящего в состав почвы.



Укажите верный ответ: _____.

Задание 4. Выберите этикетку для бочки.

Я думаю, что здесь сельдь. Наклею на этот бочонок этикетку А.

Пустой бочонок весит 2 фунта. Я думаю, что в бочке - капуста. Наклею этикетку Б.

Для засолки 1 пуда капусты надо взять 2 фунта соли.

А для такого же количества сельди – соли в 2 раза больше.

Укажите верный ответ:

А. Сельдь солёная



Б. Капуста квашеная

В. Пустая бочка

Задание 5. Напишите номер стрелки, которая указывает на место расположения засадного полка в Куликовской битве.

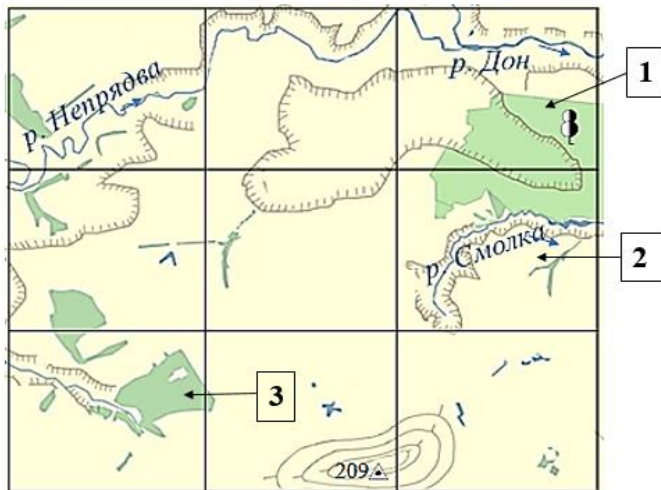


Я читал, что
Дмитрий Донской в битве
с ордынцами устроил засаду.






Да! Он отправил отдельный полк
вдоль реки Дон в дубраву.
Именно засадный полк
сыграл решающую роль в битве.



Куликовская битва
8 сентября 1380 года



Условные обозначения

- | | |
|--|---|
|  река |  овраг |
|  широколиственный лес |  холм |
| 115  высота местности | |

Ответ: 1.

Задание 6. О какой части нефтеперегонной установки не сказала Оля?



Оля:

В 1823 году впервые в России братьям Дубининым удалось осуществить перегонку нефти на заводской установке.

Нефтеперегонная установка Дубининых состояла из печи и железного куба для нефти.

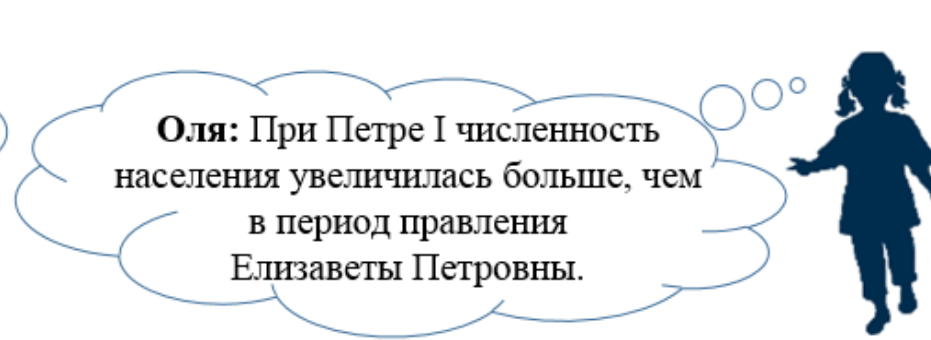
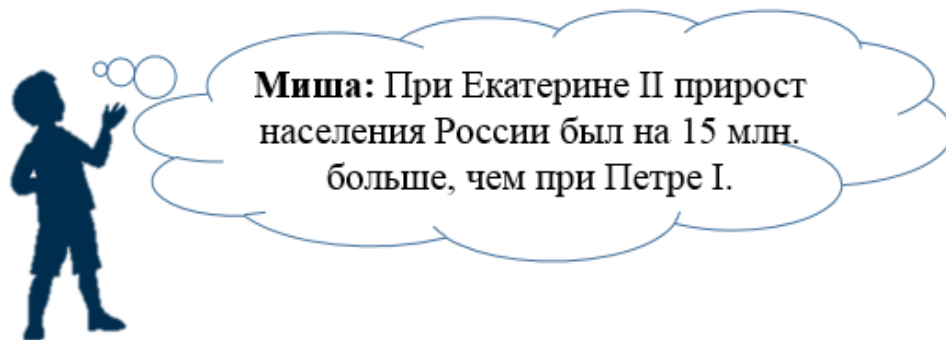
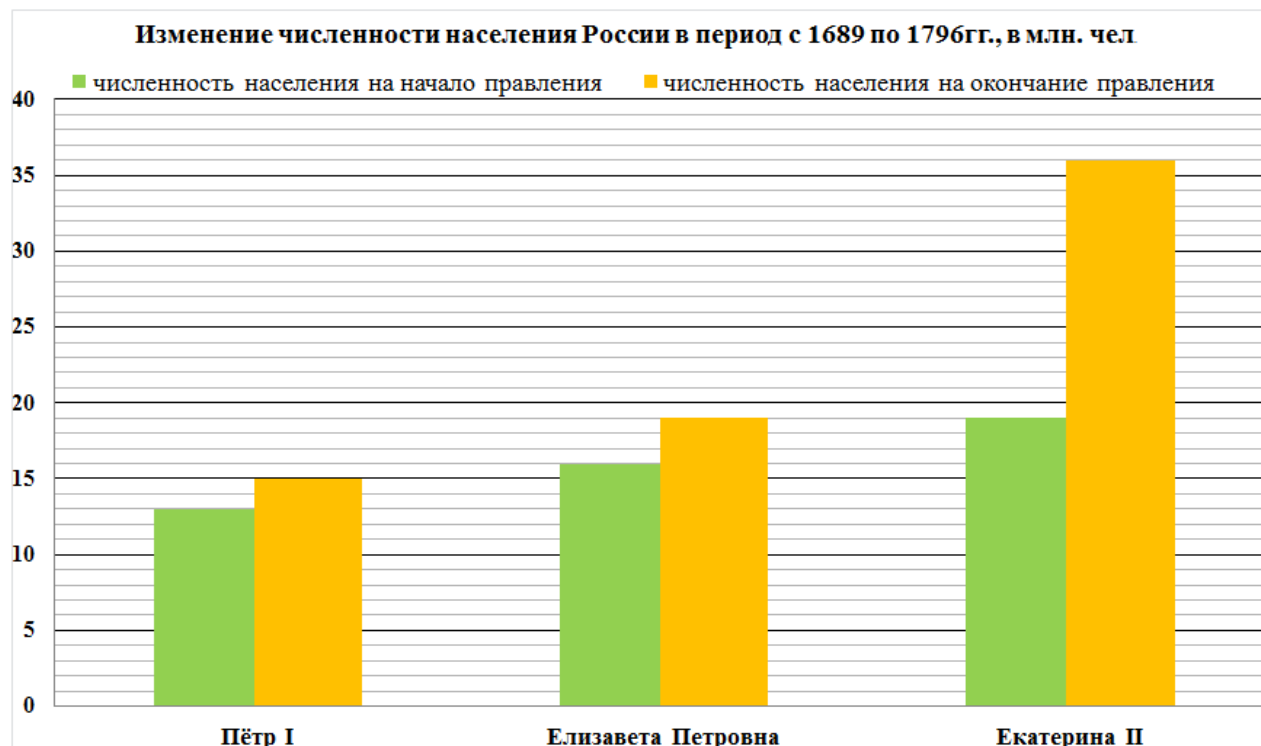
Проходя через ёмкость с холодной водой, пары нефти охлаждались, переходя в жидкое состояние.

Продукт перегонки – керосин попадал в деревянное ведро.



В поле ответов впишите букву, которая обозначает отсутствующую часть установки Д.

Задание 7. Выберите утверждение, которое соответствует данным диаграммы.



В поле ответов впишите имя ребёнка: Миша.