

«МОСКОВСКИЙ ВТОРОКЛАССНИК XXI ВЕКА»

Логин


Вариант 2

Выполняя задания, вы совершите путешествие по территории музея-заповедника «Царицыно».

1. Арка радостна, как радуга, упруга, как лук для стрельбы



Строительство арки начинается с установки *кружала*.
Кирпичи укладывают с *пят*, на которые арка опирается.
Арка набирается одновременно с двух сторон снизу
вверх. Последним устанавливается *замковый* камень в её
вершине. После закрепления арки кирпичной кладкой
можно разобрать *кружало*.



Тёма

- Ух ты! Всё рухнуло... Не надо было
разбирать кружало.

- Это замковый камень виноват.
Надо было сначала его установить.



Влад



Соня

- Ой! Мы не успели закрепить арку
кирпичной кладкой, поэтому она
сломалась.

В текстовом поле компьютера напишите имя того, кто правильно назвал причину обрушения арки.

Ответ: Тёма.

2. Нет ничего более изобретательного, чем природа...



Количество водоплавающих птиц

Камышница	Гоголь	Чомга

- Если от гоголей отнять камышниц, то их станет столько, сколько чомг.



Влад



Соня

- Влад, смотри, тут камышниц на одну больше, чем чомг.

Заполните таблицу. В текстовом поле компьютера запишите ответ цифрами без запятых. (Пример записи ответа: 123)

Ответ: 231

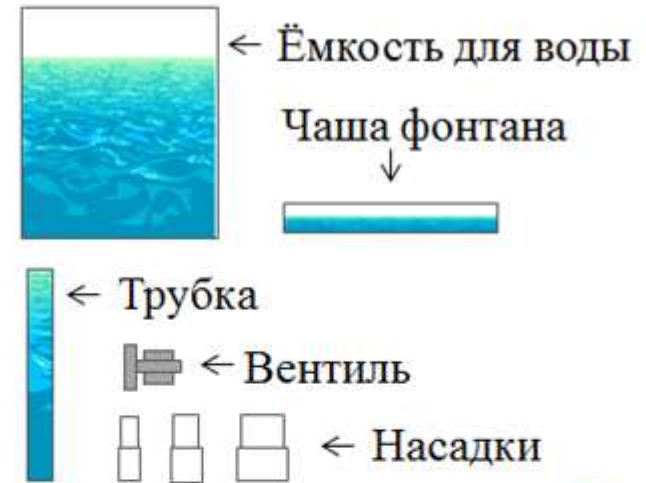
3. Природа — дом, в котором живёт человек. Д. Лихачёв



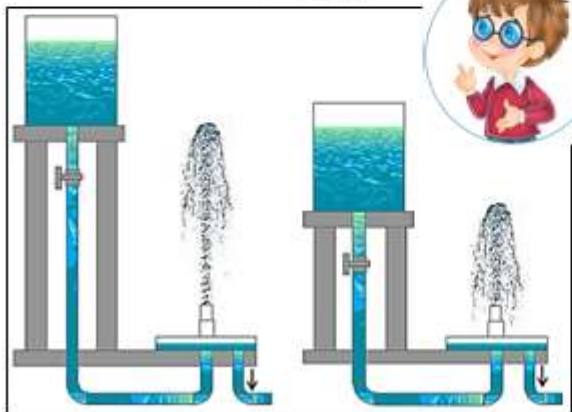
В поле ответов отметьте **все** верные высказывания.

- 1) По данным экологов в Москве осталось всего 8 видов водоплавающих птиц.
- 2) Широконоска – самая малочисленная водоплавающая птица Москвы.
- 3) В последние годы на московских прудах и реках постоянно увеличивается количество огарей.

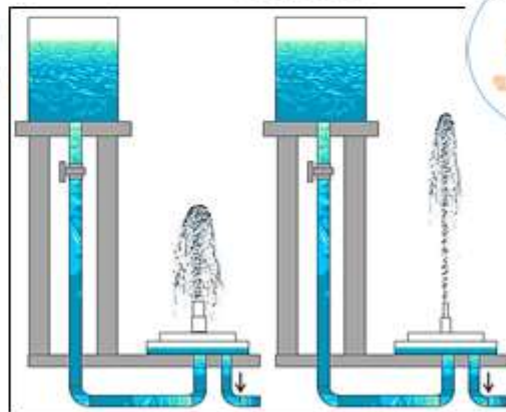
4. Смотри, как облаком живым фонтан сияющий клубится... Ф.И. Тютчев



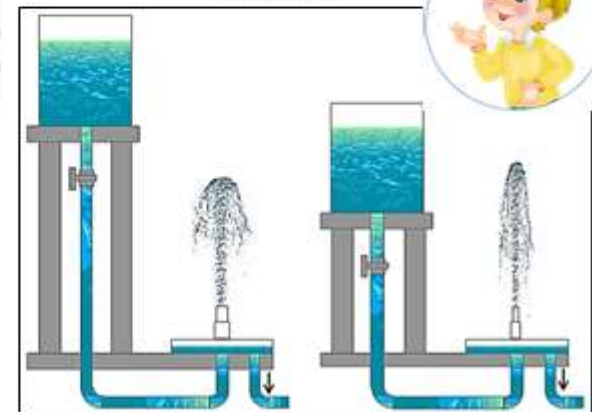
Влад



Соня



Тёма



Ребята хотели узнать, как высота струи фонтана зависит от ширины насадки. В поле ответов напишите имя того, кто правильно провёл эксперимент.

Ответ: Соня

5. Внимая музыке воды и света



- Для каждой струи фонтана надо задать определённую высоту в сценарии.



Влад

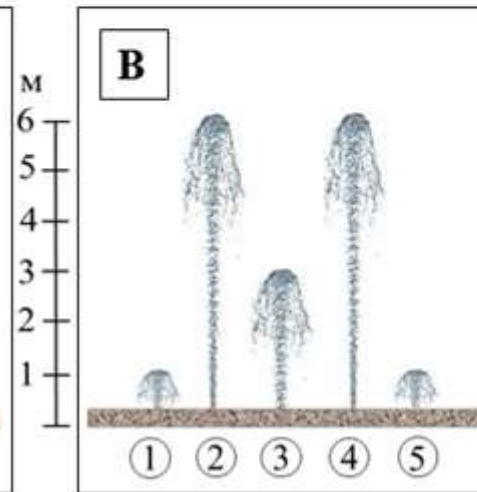
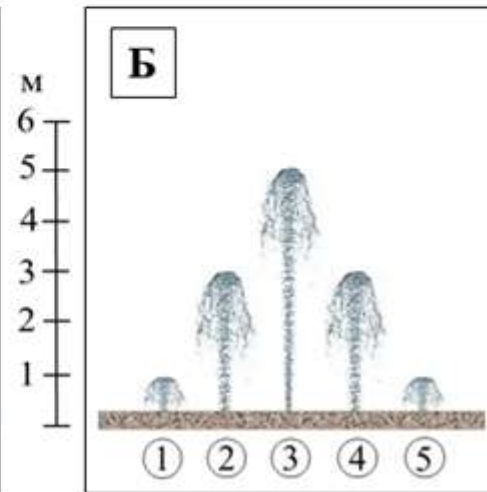
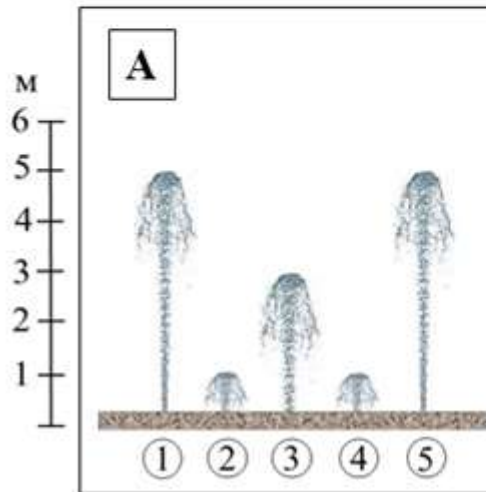


Тёма

- А ещё можно сделать так, чтобы высота струй всё время менялась.

СЦЕНЫ

СЦЕНАРИЙ



№	Высота струй, м		
	1	1	5
2	3	1	6
3	5	3	3
4	3	1	6
5	1	5	1

В каждом столбце таблицы задана высота струй фонтана. В **пустые ячейки сценария** впишите буквы, которыми обозначены заданные сцены. В поле ответов запишите ответ без запятых. (Пример записи ответа: АБВ)

Ответ: БАВ

6. Мы поедem, мы помчимся...



ПРАВИЛА

проката на собачьих и оленьих упряжках

Запрещается:

- на собачьих упряжках кататься детям до 7 лет без сопровождения взрослого;
- запрыгивать и спрыгивать до полной остановки упряжки.

Загрузка:

- собачьи упряжки – 90 кг.



- Мой папа весит столько, сколько моя мама и сестрёнка Юля вместе. А я легче папы на 50 кг.



В поле ответов отметьте верное утверждение.

- 1) На собачьей упряжке может покататься вся семья Даши одновременно.
- 2) Юля и Даша могут покататься на собачьей упряжке.
- 3) Мама и Юля могут покататься на собачьей упряжке.