

## «МОСКОВСКИЙ ТРЕТЬЕКЛАССНИК XXI ВЕКА»

ЛОГИН \_\_\_\_\_

3 класс. Вариант 1

1. Укажите знак дорожного движения «Движение на велосипедах запрещено».



2. В стародавние времена на Руси народ сочинял былины. Их исполняли нараспев народные сказители под аккомпанемент музыкального инструмента. Укажите этот инструмент.



ксилофоны



гусли

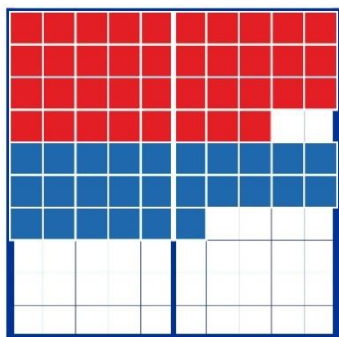


тамбурины



кастаньеты

3. Выберите запись числового выражения, которая соответствует «макетному» изображению суммы чисел. При выполнении задания воспользуйтесь цветным изображением макета в компьютере.



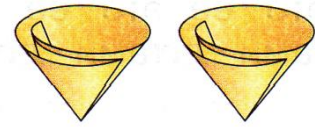
$48 - 12$

$38 + 26$

$27 - 33$

$28 + 35$

4. Укажите всё, что необходимо для проведения опыта, в результате которого можно сделать вывод: «Песок пропускает воду лучше, чем глина».



песок



глина

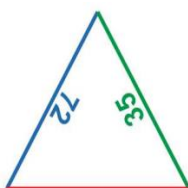
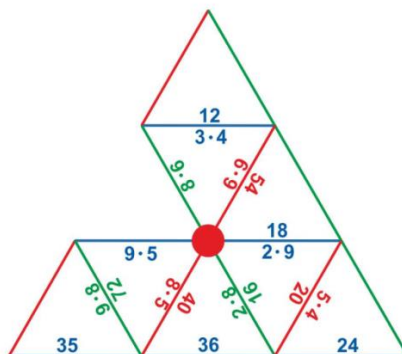
5. Рассмотрите изображения.

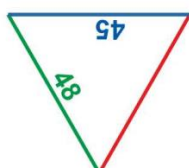


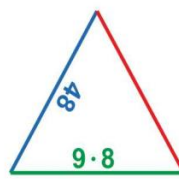
Укажите изображение, которое соответствует описанию:

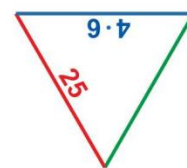
«Лишайник, состоящий из сильно разветвленных в виде кустика веточек. Обильнее растет на земле, древесине, камнях\_с северной стороны. Служит ценнейшим кормом для северных оленей. Является сырьём для получения лекарственных препаратов».

6. Укажите недостающий треугольник, с помощью которого можно верно выложить математическую мозаику.










7. Выберите таблицу, в которой указан верный способ размена купюры в 5000 рублей.

Таблица 1

Купюра				
Количество	1	6	5	10

Таблица 2

Купюра				
Количество	4	1	2	4

8. Прочитайте предложение. Наберите это предложение в текстовом поле компьютера.

12 апреля весь мир отмечает День космонавтики.

Для выполнения заданий 9 и 10 прочитайте следующий текст:



### Хитрый соня

Коалы спят по 20 часов в сутки. А остальное время жуют листья эвкалипта или сидят, прижавшись к стволу. И дело тут не в лени.

Нежные объятия с деревьями – способ терморегуляции. Зоологи заметили, что в жаркие дни, когда температура выше 30 °С, коалы выбирают самую толстую ветку и прижимаются к ней животом, обхватив четырьмя лапами. Дело в том, что при высокой температуре воздуха температура толстых ветвей ниже, и для животных

это как холодный компресс. Тонкие ветви в верхней части кроны охлаждаются не так сильно, поэтому коалы забираются повыше только при умеренной температуре.

Лучше всего охлаждает акация. Поэтому от зноя коалы спасаются именно на этих деревьях, хотя и не едят листья акации.

9. Укажите, в какой сборник можно включить этот текст:

- сборник «Сказки народов мира»
- энциклопедия для детей «Окружающий мир»
- сборник «Пословицы и поговорки»
- орфографический словарь «А – Я»

11. Выберите верный ответ на вопрос: «Для чего коалы выбирают самую толстую ветку и прижимаются к ней животом?»

- маскировка
- принятие удобной позы для питания
- спячка
- поддержание температуры тела

9. Выполните задание по заданному алгоритму:

1)	Открыть новую вкладку.
2)	В адресной строке набрать: <a href="http://21vek.mosmetod.ru/three.html">21vek.mosmetod.ru/three.html</a>
3)	На открывшейся странице найти ответ на вопрос: «Какой город основан позднее других?»
4)	Вернуться к вкладке олимпиады.
5)	Набрать ответ в поле «Ответ».